

<b>Název školy:</b>	<b>Základní škola Hlubočky – Mariánské Údolí, okres Olomouc, příspěvková organizace</b>
<b>Registrační číslo projektu:</b>	<b>CZ.1.07/1.4.00/21.0739</b>
<b>Označení materiálu:</b>	EU OP VK 1_2_ M/15
<b>Vypracoval(a):</b>	Mgr. Martina Vodičková
<b>Název materiálu:</b>	Matematické procvičování
<b>Předmět:</b>	Matematika
<b>Třída:</b>	první
<b>Druh materiálu:</b>	Pracovní list
<b>Anotace:</b>	Žák počítá předměty v daném souboru. Provádí z paměti jednoduché poč. operace. Porovnává čísla. Pracuje s geometrickými tvary

1. Maminka objednala v cukrárně pohár zmrzliny. Stál 16 Kč. Platila desetikorunou.  
Měla dost peněz?

Pokud ne, kolik jí chybělo?

V: \_\_\_\_\_

O \_\_\_\_\_

2. Jirkovo telefonní číslo je 25151. Pokud ho najdeš v následujících sloupcích, podtrhni ho zeleně.

35152          14251          25151

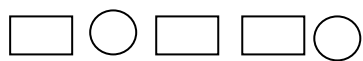

26151          15125          10206

25121          52151          80457

3. Napiš alespoň čtyři možnosti do tabulky.

Čísla menší než 11				
Čísla větší než 12				
Čísla menší než 10				
Čísla větší než 2				

4. Pokračuj v řadě a domaluj geometrické tvary.



1. Maminka objednala v cukrárně pohár zmrzliny. Stál 16 Kč. Platila desetikorunou. Měla dost peněz?

Pokud ne, kolik jí chybělo?

$$16 - 10 = 6$$

V: \_\_\_\_\_

O: Chybělo jí 6 korun.

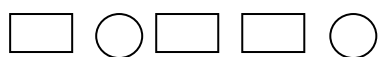
2. Jirkovo telefonní číslo je 25151. Pokud ho najdeš v následujících sloupcích, podtrhni ho zeleně.

35152	14251	25151
26151	15125	10206
25121	52151	80457

3. Napiš alespoň čtyři možnosti do tabulky.

Čísla menší než 11	10	9	8	7
Čísla větší než 12	13	14	15	16
Čísla menší než 10	9	8	7	6
Čísla větší než 2	3	4	5	6

4. Pokračuj v řadě a domaluj geometrické tvary.



Citace: obrázky byly použity z Microsoft WORD – tvary(základní)