








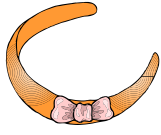


Název školy:	Základní škola Hlubočky – Mariánské Údolí, okres Olomouc, příspěvková organizace
Registrační číslo projektu:	CZ.1.07/1.4.00/21.0739
Označení materiálu:	EU OP VK 1_2 _M/16
Vypracoval(a):	Mgr. Martina Vodičková
Název materiálu:	Nákupy
Předmět:	Matematika
Třída:	první
Druh materiálu:	Pracovní list
Anotace:	Žáci si procvičí nakupování v obchodě. Orientaci na stránce. Sčítání a odčítání do 20.

1. Říkej příklady, co si všechno můžeš koupit za 20,-Kc.










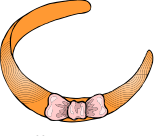
 2 Kč	 5 Kč	 10 Kč	 6 Kč	 3 Kč
 1 Kč	 4 Kč	 7 Kč	 8 Kč	 9 Kč

Napiš příklady a vypočítej

- Eva nakoupila tužku, izolepu a štětec . Zaplatila -----
-
- Klára nakoupila mašli, čelenku a lízátko. Zaplatila -----

- Pepa nakoupil 2 tužky, štětec a zákusek. Zaplatil,-----
- Tereza nakoupila 2 bonbony, izolepu a pokladničku. Zaplatila -----
-
- Pavel nakoupil 2 lízátka, růži a bonbon. Zaplatil -----

1. Říkej příklady, co si všechno můžeš koupit za 20,-Kc.

 2 Kč	 5 Kč	 10 Kč	 6 Kč	 3 Kč
 1 Kč	 4 Kč	 7 Kč	 8 Kč	 9 Kč

Napiš příklady a vypočítej

1. Eva nakoupila tužku, izolepu a štětec . Zaplatila $2+10+6=18$ Kč

2. Klára nakoupila mašli, čelenku a lízátko. Zaplatila $5+9+3=17$

3. Pepa nakoupil 2 tužky, štětec a zákusek.Zaplatil, $2+2+6+4=14$

4. Tereza nakoupila 2 bonbony, izolepu a pokladničku. Zaplatila $1+1+10+8=20$

5. Pavel nakoupil 2 lízátko, růži a bonbon.Zaplatil $3+3+7+1=14$

Citace: Obrázky byly použity Microsoft WORD -klipark