

Název školy:	Základní škola Hlubočky – Mariánské Údolí, okres Olomouc, příspěvková organizace
Registrační číslo projektu:	CZ.1.07/1.4.00/21.0739
Označení materiálu:	EU OP VK 1_2_ M/2
Vypracoval(a):	Mgr. Martina Vodičková
Název materiálu:	Čti čísla do 10
Předmět:	Matematika
Třída:	první
Druh materiálu:	Pracovní list
Anotace:	Žák přečte řadu čísel do 10 a seřadí je podle velikosti. Dočítá do 10, procvičuje + a – do 10. Pracuje podle zadání. Orientuje se na stránce.

1. Čti čísla .

7, 9, 8, 10, 1, 3, 5, 6, 4

2. Které číslo řadě od 1 do 10 chybí ?

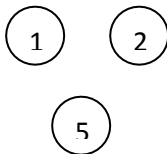
V číselné řadě od 1 do 10 chybí číslo

3. Seřaď čísla podle velikosti.

.....

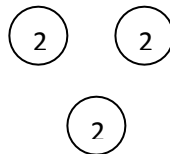
4. Kolik korun dětem chybí na časopis za 10 Kč? Namaluj to.

Jana



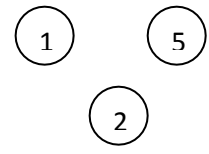
Janě chybí :

Jirka



Jirkovi chybí:

Martin



Martinovi chybí:

5. Vypočítej:

$9 - 8 =$

$2 + 8 =$

$8 - 8 =$

$4 + 3 =$

$10 - 7 =$

$5 + 4 =$

$8 - 4 =$

$3 + 5 =$

$8 - 5 =$

$6 + 2 =$

$9 - 9 =$

$4 + 4 =$

$10 - 6 =$

$2 + 3 =$

$10 - 7 =$

$8 + 1 =$

$10 - 4 =$

$3 + 7 =$

$9 - 6 =$

$7 + 2 =$

1. Čti čísla .

7, 9, 8, 10, 1, 3, 5, 6, 4

2. Které číslo řadě od 1 do 10 chybí ?

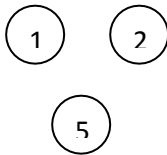
V číselné řadě od 1 do 10 chybí číslo ...2.....

3. Seřaď čísla podle velikosti.

.....1, 2, 3, 4, 5, 6, 7, 8, 9, 10

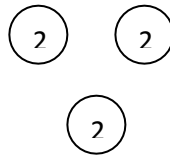
4. Kolik korun dětem chybí na časopis za 10 Kč? Namaluj to.

Jana



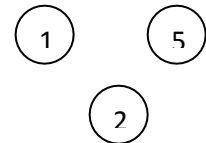
Janě chybí: 2 Kč

Jirka



Jirkovi chybí: 4 Kč

Martin



Martinovi chybí: 2 Kč

5. Vypočítej:

$$9 - 8 = 1$$

$$8 - 8 = 0$$

$$10 - 7 = 3$$

$$8 - 4 = 4$$

$$8 - 5 = 3$$

$$9 - 9 = 0$$

$$10 - 6 = 4$$

$$10 - 7 = 3$$

$$10 - 4 = 6$$

$$9 - 6 = 3$$

$$2 + 8 = 10$$

$$4 + 3 = 7$$

$$5 + 4 = 9$$

$$3 + 5 = 8$$

$$6 + 2 = 8$$

$$4 + 4 = 8$$

$$2 + 3 = 5$$

$$8 + 1 = 9$$

$$3 + 7 = 10$$

$$7 + 2 = 9$$