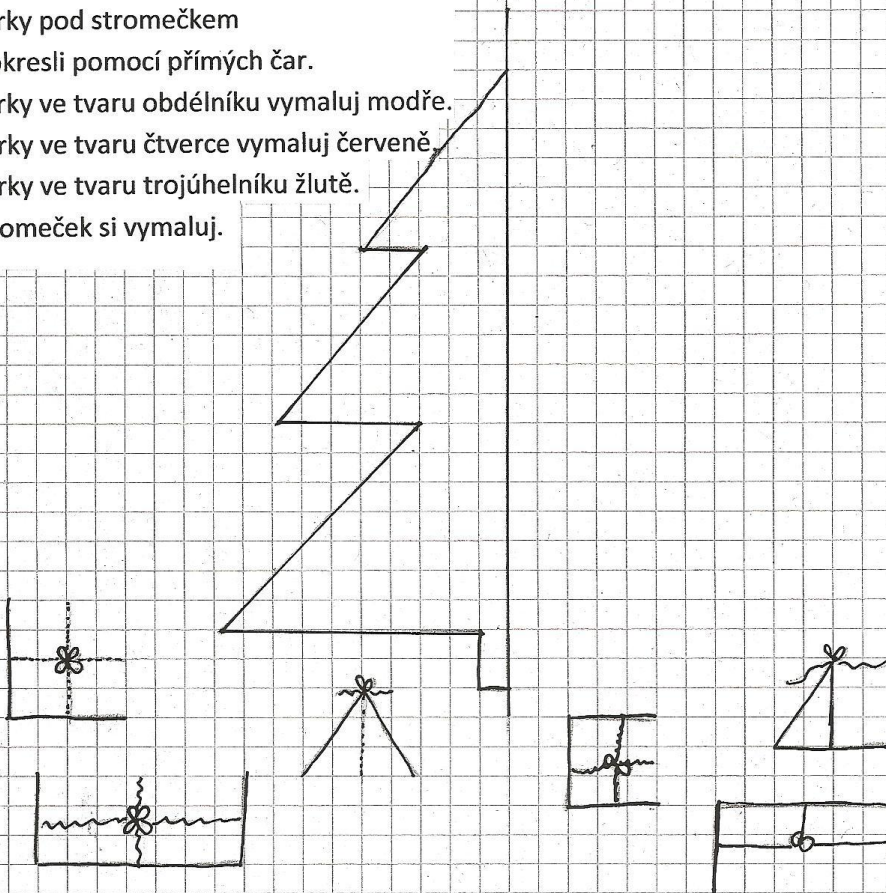


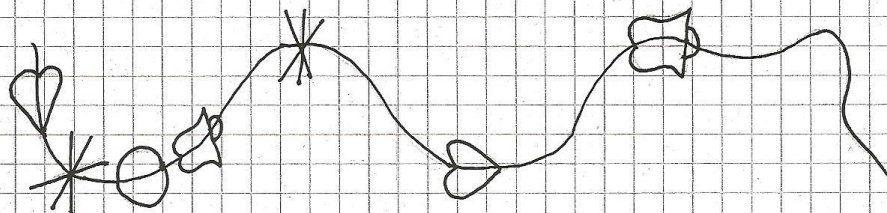
Název školy:	Základní škola Hlubočky – Mariánské Údolí, okres Olomouc, příspěvková organizace
Registrační číslo projektu:	CZ.1.07/1.4.00/21.0739
Označení materiálu:	EU OP VK 1_2_ M/20
Vypracoval(a):	Mgr. Eva Charamzová
Název materiálu:	Vánoční geometrie
Předmět:	Matematika
Třída:	2
Druh materiálu:	pracovní list
Anotace:	<p>Pracovní list slouží k opakování znalostí a dovedností žáka z geometrie hravou formou.</p> <p>Očekávaný výstup: rozlišuje geometrické tvary, užívá přímé a křivé čáry, porovnává délku úsečky, zakresluje ve čtvercové síti</p>

Vánoční Geometrie

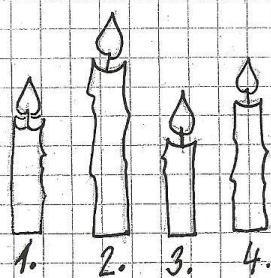
1. Dokresli podle levé části stroměčku co nejpřesněji jeho pravou polovinu.
2. Pomocí křivé čáry vytvoř na vánočním stroměčku řetěz.
3. Do vánočního stroměčku zakresli 3 kruhy.
Kruhy domaluj jako baňky.
4. Dárky pod stroměčkem dokresli pomocí přímých čar.
5. Dárky ve tvaru obdélníku vymaluj modře.
6. Dárky ve tvaru čtverce vymaluj červeně.
7. Dárky ve tvaru trojúhelníku žlutě.
8. Stroměček si vymaluj.



Do vánočního řetězu dokresli ozdoby podle správného pořadí.



Odhadem nebo pomocí proužku papíru porovnej délky adventních svíček.



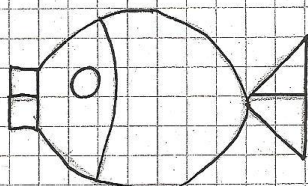


S1

S2

S3

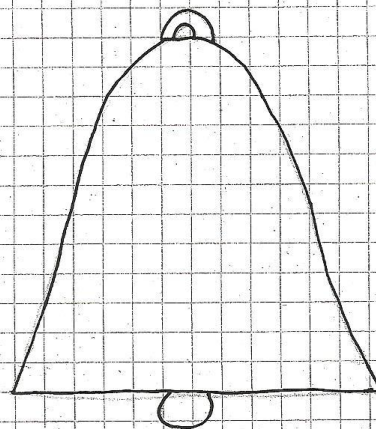
S4

Překresli správně obrázky.


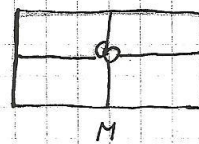
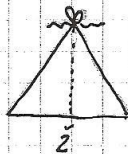
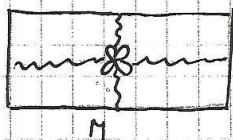



Nazdob vánoční zvoneček.

Použij různé druhy čar
(přímé, křivé, lomené) nebo
geometrické tvary.

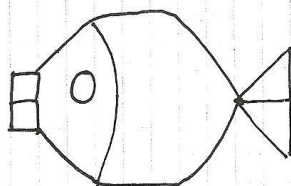
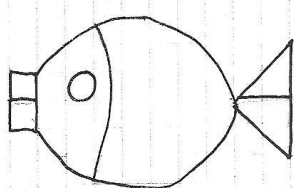
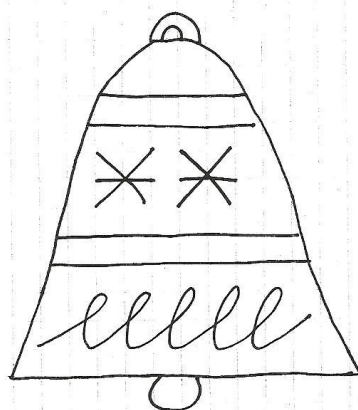





ŘEŠENÍ





$s_1 < s_2 > s_3 < s_4$



Citace:

Obrázky použity z vlastní tvorby.

