


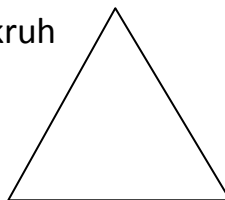


Název školy:	Základní škola Hlubočky – Mariánské Údolí, okres Olomouc, příspěvková organizace
Registrační číslo projektu:	CZ.1.07/1.4.00/21.0739
Označení materiálu:	EU OP VK 1_2_ M/22
Vypracoval(a):	Mgr. Eva Charamzová
Název materiálu:	Kontrolní práce z geometrie
Předmět:	Matematika
Třída:	2
Druh materiálu:	pracovní list
Anotace:	Pracovní list slouží k ověření znalostí a dovedností žáka z geometrie za 1. pololetí. Očekávaný výstup: rozlišuje geometrické tvary a tělesa, rozlišuje pojmy přímá, křivá, lomená čára, rýsuje úsečku, vyznačí body, spojuje body příkými čarami

Jméno: _____

Kontrolní práce z geometrie

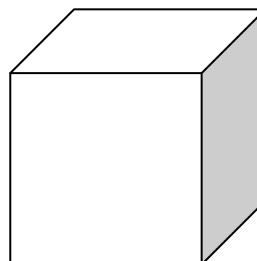
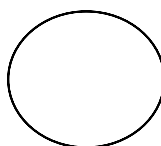

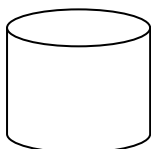
1. Spoj názvy geometrických tvarů se správnými obrázky:

Trojúhelník čtverec obdélník kruh



2. Spoj názvy těles se správnými obrázky:

Krychle kvádr válec koule



3. Nakresli křivou čáru:

4. Narýsuj lomenou čáru:

5. Narýsuj 2 rovné čáry. Na jedné z nich vyznač libovolný bod.

6. Narýsuj úsečku AB.

7. Narýsuj úsečku CD . Vyznač body R,S tak, aby ležely na úsečce CD.

Vyznač body K, L tak, aby neležely na úsečce.

8. Vyznač bod S. Narýsuj 2 různé přímé čáry tak, aby procházeli bodem S.

9. Spoj body přímými čarami.

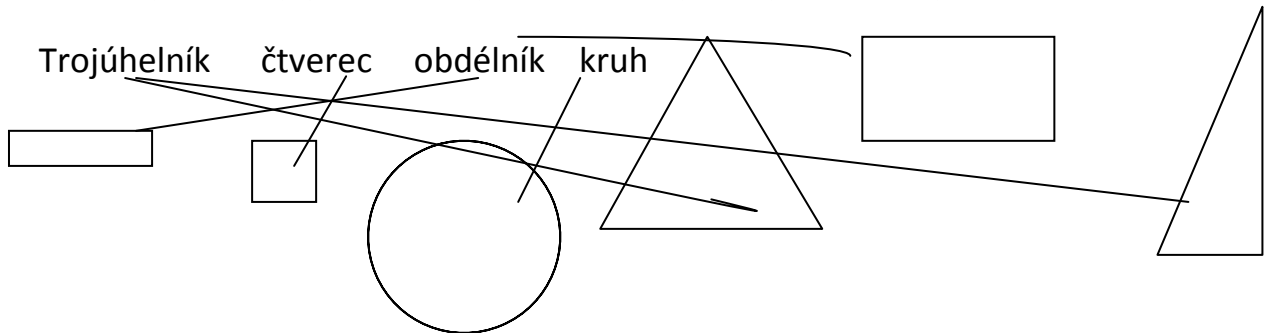
+ O

M +

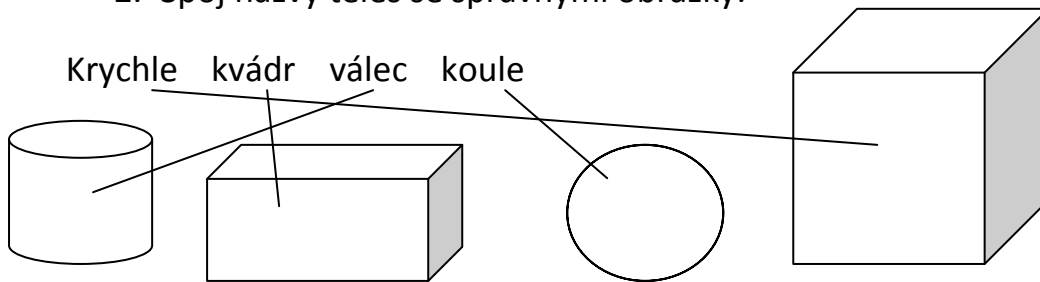
+ N

Řešení:

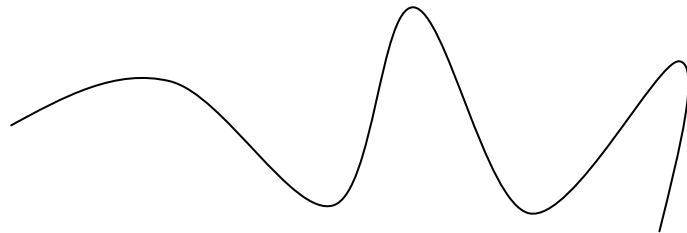
1. Spoj názvy geometrických tvarů se správnými obrázky:



2. Spoj názvy těles se správnými obrázky:



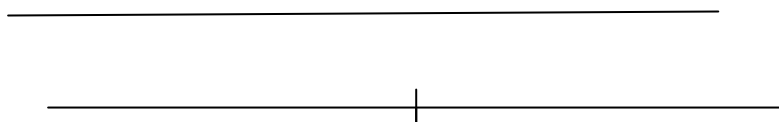
3. Nakresli křivou čáru:



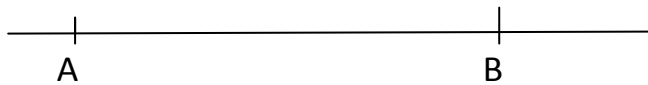
4. Narýsuj lomenou čáru:



5. Narýsuj 2 rovné čáry. Na jedné z nich vyznač libovolný bod.

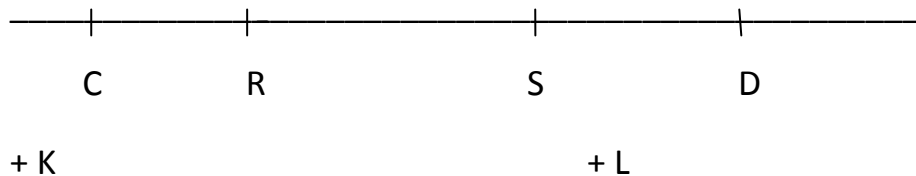


6. Narýsuj úsečku AB.

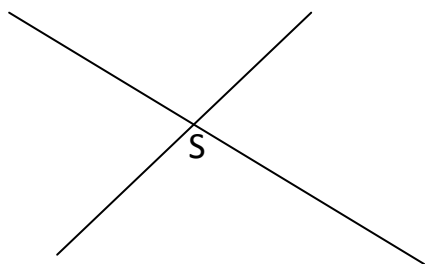


7. Narýsuj úsečku CD . Vyznač body R,S tak, aby ležely na úsečce CD.

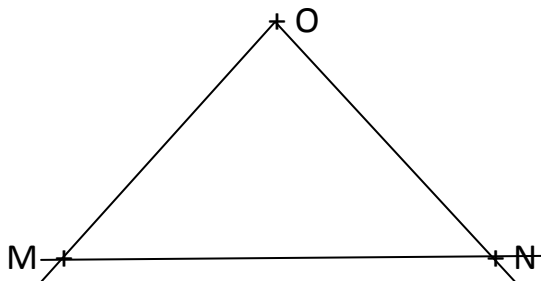
Vyznač body K, L tak, aby neležely na úsečce.



8. Vyznač bod S. Narýsuj 2 různé přímé čáry tak, aby procházely bodem S.



9. Spoj body přímými čarami.



Citace:

Obrázky použity z Microsoft Word – Tvary.