
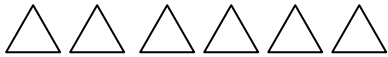


Název školy:	Základní škola Hlubočky – Mariánské Údolí, okres Olomouc, příspěvková organizace
Registrační číslo projektu:	CZ.1.07/1.4.00/21.0739
Označení materiálu:	EU OP VK 1_2_ M/3
Vypracoval(a):	Mgr. Martina Vodičková
Název materiálu:	Spočítej trojúhelníky
Předmět:	Matematika
Třída:	první
Druh materiálu:	Pracovní list
Anotace:	Žák pracuje s geometrickými tvary – počítá je, porovná je. Porovnává čísla do 10. Orientuje se na stránce.


1. Spočítej trojúhelníky.

Spočítej obdélníky.

Porovnej je.



 je

 je



2. Kolik zůstane , když 2 zakryješ ?



3. Kolik  musíš zakrýt aby zůstaly 3 ?

Musím zakrýt 

4. Vybarvi stejný počet  a .

5. Doplň znamínka <, >, =.

7 7

4 10

3 0

6 9

4 4

8 7

5 5

8 6


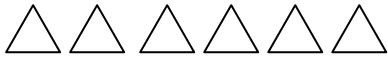
10 9

5 8


1. Spočítej trojúhelníky.



Spočítej obdélníky.

Porovnej je.




 je 6.....

 je ...9.....

 < 

2. Kolik zůstane  , když 2 zakryješ ?

...4.....


3. Kolik  musíš zakrýt aby zůstaly 3 ?

Musím zakrýt ...6.....

4. Vybarvi stejný počet  a  .

5. Doplň znamínka <, >, =.

7 = 7

4 < 10

3 > 0

6 < 9

4 = 4

8 > 7

5 < 8

10 > 9

8 > 6

5 = 5

Citace: obrázky byly použity z Microsoft WORD – tvary(základní)