


Název školy:	Základní škola Hlubočky – Mariánské Údolí, okres Olomouc, příspěvková organizace
Registrační číslo projektu:	CZ.1.07/1.4.00/21.0739
Označení materiálu:	EU OP VK 1_2_ M/8
Vypracoval(a):	Mgr. Martina Vodičková
Název materiálu:	Slovní úlohy do 10
Předmět:	Matematika
Třída:	první
Druh materiálu:	Pracovní list
Anotace:	Žák přečte text, vypočítá, doplní odpověď a výsledek namaluje. Práce s přirozenými čísly.

1. Na stromě jsou 3 žluté, 4 červené, 2 zelené hrušky. Kolik jich je na stromě celkem?




V: _____

Namaluj je.

Na stromě je __ hrušek.

2. Honzík koupil 10 jablek v obchodě. Cestou na ně dostal chuť a 3 snědl. Kolik jich donesl domů?




V: _____

Namaluj kolik jich donesl domů.

Domů donesl _ jablek.

Citace: obrázky byly použity z Microsoft WORD- klipart, tvary(základní)

1. Na stromě jsou 3 žluté, 4 červené, 2 zelené hrušky. Kolik jich je na stromě celkem?




V: $3+4+2=9$

Namaluj je.

Na stromě je 9 hrušek.

2. Honzík koupil 10 jablek v obchodě. Cestou na ně dostal chuť a 3 snědl. Kolik jich donesl domů?



$10 - 3 = 7$

V: _____

Namaluj kolik jich donesl domů.

Citace: obrázky byly použity z Microsoft WORD- klipart, tvary(základní)

Domů donesl _7__jablek.